

## 2018 年全国国企暑假班习题任务《公共基础知识》

## 邮政暑假作业

1. 研究发现，睡眠存在障碍与很多疾病有着难以\_\_\_\_\_的联系。有时候通过改善睡眠状况，可连带对另一种疾病的治疗起到\_\_\_\_\_的功效。

依次填入划横线部分最恰当的一项是：

- A. 区分 釜底抽薪 B. 割裂 一石二鸟  
C. 确认 投石问路 D. 分割 正本清源

2. 胡蜂在本能的作用下\_\_\_\_\_地营造自己的生活、生育中心，它的巢是一个\_\_\_\_\_的纸房子。蔡伦如果在改进造纸术之前目睹过胡蜂的建筑过程而受到启发，无疑便是世界上最早的仿生学家了。

依次填入划横线部分最恰当的一项是：

- A. 独具匠心 名不虚传 B. 自然而然 货真价实  
C. 兢兢业业 巧夺天工 D. 无师自通 名副其实

3. 在现实生活中，做人的学问往往比做事的学问更具有实用价值、更重要也更难掌握。做事仅靠技术就能\_\_\_\_\_，做人则是一门弹性极强的艺术，讲求的是无法量化和\_\_\_\_\_的分寸感。做事学一次即有毕业的可能，做人要活到老学到老，要一辈子下功夫。

依次填入划横线部分最恰当的一项是：

- A. 独当一面 学习 B. 臻于佳境 复制  
C. 如鱼得水 把握 D. 游刃有余 控制

4. 古训“失之毫厘，谬以千里”与“蝴蝶效应”\_\_\_\_\_，两者都告诫要特别注意初始条件，对微小差别应该保持高度的灵敏度和警觉性。事物发展结果往往对初始条件具有极为敏感的依赖性，初始条件的极其细微的改变，都会在系统后期出现\_\_\_\_\_，从而引起结果的极大差异。

依次填入划横线部分最恰当的一项是：

- A. 殊途同归 问题 B. 大同小异 变异

C.异曲同工 偏差

D.不谋而合 歪曲

5.对大多数人来说,岗位是个人历练成长的基石。除了极少数的人能\_\_\_\_\_创建自己的事业,大多数人都必须走一条相同的路:在岗位上磨炼,依托\_\_\_\_\_奠定未来事业的基础。

依次填入划横线部分最恰当的一项是:

A.直接 组织

B.主动 团队

C.独立 同事

D.一手 集体

6.既然编全集,希望完整地\_\_\_\_\_某一文人学者的形象,正反两方面的资料便都应该保留下来。可说实话,古往今来,经得起这么折腾的人物不是很多,你很认真地为其辑佚、整理,不放过任何\_\_\_\_\_,好不容易弄出全集来,不只没加分,还减分。

依次填入划横线部分最恰当的一项是:

A.描绘 蛛丝马迹

B.还原 一鳞半爪

C.展现 闲言细语

D.呈现 只言片语

7.“器大者声必闳,志高者意必远。”新闻作品要想成为历史的“宏音”,时代的“响箭”,新闻记者就必须胸怀全局、\_\_\_\_\_,深入\_\_\_\_\_新闻的理性力量,使新闻语言具有一种理性美。

依次填入划横线部分最恰当的一项是:

A.高瞻远瞩 分析

B.高屋建瓴 发掘

C.见微知著 彰显

D.由表及里 剖析

8.媒介的诞生是为了推动人类社会的发展,而人们使用媒介的独特性也是为了不断提升和完善自己的生活,这两者本来都有良好的\_\_\_\_\_.然而,科学技术与人类意识发展上的失衡,导致媒介在被过度使用的过程中有时会脱离人的\_\_\_\_\_。

依次填入划横线部分最恰当的一项是:

A.出发点 掌控

B.适应性 规划

C.侧重点 控制

D.目的性 约束

9.在确立以夏、商、周为核心的中国上古史基本框架的基础上,“夏商周断代工程”将历谱推定、文献梳理、考古与碳十四测定等课题研究成果加以整合,提出了夏

商周年表。尽管这个年表还有不够\_\_\_\_\_之处，但它的提出毕竟标志着中国的上古史已不是\_\_\_\_\_

的传说，而是可信的历史了。

依次填入划横线部分最恰当的一项是：

- A.细致 子虚乌有 B.精准 虚无缥缈  
C.合理 扑朔迷离 D.精确 空穴来风

10.成本过高是可再生能源发展的最大\_\_\_\_\_。就电力而言，风电是最接近商业化的可再生能源，但成本仍然比火力发电高；太阳能发电成本就更高了，是火电的数倍。因而降低成本是可再生能源\_\_\_\_\_化发展的关键。

依次填入划横线部分最恰当的一项是：

- A.瓶颈 现代 B.障碍 规模  
C.问题 市场 D.阻碍 产业

11.面对不断出现的消费和产业成长热点，企业的注意力应首先放在寻求高成长产业的“先进入”\_\_\_\_\_上，以\_\_\_\_\_供不应求阶段的高额利润。而当进入者不断增加，竞争加剧后，企业则应将重点放在低成本为\_\_\_\_\_的价格竞争上，以保住和扩大市场份额。

依次填入划横线部分最恰当的一项是：

- A.缺口 垄断 特征 B.前景 瓜分 手段  
C.机遇 谋取 基础 D.许可 获取 支撑

12.颜真卿“守其正，全其节”的气节备受后世\_\_\_\_\_，人见其书，往往\_\_\_\_\_他的人品。欧阳修称“其字画刚劲独立，不袭前迹，挺然奇伟，有似其为人”，即使对其楷书有些\_\_\_\_\_的米芾，也感到颜体具有一种“昂然不可犯之色”。

依次填入划横线部分最恰当的一项是：

- A.推崇 联想 微词 B.仰慕 追怀 保留  
C.称颂 认同 不满 D.赞誉 映照 非议

13.回到故乡时，发现故乡的传统生活方式正在消亡。村里的人们曾经拥有一个\_\_\_\_\_而完整的精神世界，但是外面的世界改变了这一切。这个村正在\_\_\_\_\_而又急遽地转型，只是生活在其中的人\_\_\_\_\_。

依次填入划横线部分最恰当的一项是：

- A.美好      不着痕迹      似信非信
- B.淳朴      潜移默化      漠然无知
- C.单一      默不作声      懵懵懂懂
- D.封闭      悄无声息      浑然不觉

14.达·芬奇在科学的诸多领域都有不少\_\_\_\_\_和研究成果,因此获得诺贝尔物理奖是\_\_\_\_\_的,而且有资格获得不止一次的\_\_\_\_\_。与此同时,他给人类创造的艺术财富是如此巨大,足以戴上“诺贝尔艺术奖”的\_\_\_\_\_。

依次填入划横线部分最恰当的一组是:

- A.发明      绰绰有余      提名      桂冠
- B.发明      理所当然      提名      王冠
- C.发现      水到渠成      奖励      桂冠
- D.发现      实至名归      奖励      王冠

15.在不同的国家,不同的时期,科技管理制度可以不同,可以创新,但有一项制度特别重要并具有普适性:那就是创新主体的泛化,或曰创新战略的全民化或人民性。换言之,让每个人都有求变创新之心,让每一个发明不论大小都有展示的机会,应当是构建自主创新大制度、大环境的基本出发点。

这段文字意在强调:

- A.科技管理制度的重要性
- B.创新需要良好的环境作支撑
- C.创新需要制度支持
- D.科技管理制度应保证创新的全民性

16.“点击此处设为首页”,这句提示在 2000 年的时候遍布各个网站。不论中文网站还是英文网站,都会习惯性地 在右上角添加上这么一条,生怕电脑白丁们不知道如何设置首页。可 2005 年之后,这种“善意”的提示仿佛一夜之间消失了,就如同一份报纸省略掉了自己的征订热线一样,大网站们不再过分热情地推荐首页设置。

这段文字接下来最可能谈论的是:

- A.网页形式变迁的原因
- B.首页设置的提醒并非善意
- C.如何避免网络陷阱
- D.网络行为更具跟风的特点

17.7年前，瑞士生物学家伯特利库斯登上了《时代》的封面，他发明的转基因稻米被认为能够改善世界上几百万贫困人口的生活。但是7年过去了，市场上还看不到转基因稻米的踪影。欧洲人一直对转基因食品持怀疑态度，超市里标明他们出售的商品是“非转基因”的，欧盟规定任何转基因成分超过0.9%的产品都要在包装上注明。西方人错置的道德观正夺去数百万穷国人口的生命。

这段文字意在表明：

- A.转基因食品事实上是安全的
- B.市场呼吁转基因食品早日亮相
- C.转基因稻米的发明具有重大意义
- D.欧洲人对转基因食品的歧视造成的影响很大

18.音乐是真正的世界语，是感情的语言。当两个国家愿意通过音乐交流，其中或许就含有某种政治善意，即双方想以彼此都能了解、都可接受的音乐语言进行对话。而且，“乐于情通”，音乐往往可以给人带来精神愉悦，从而为人际交往创造良好的气氛。

这段文字强调音乐是：

- A.化解文化冲突的有效方法
- B.各国普遍采用的一种外交手段
- C.人际交往的一种手段
- D.国家之间进行政治沟通与交流的一种工具

19.孔子尝曰：“未知生，焉知死？”生与死自孔子时起便是中国人始终关注的问题，并得到各种回答。尤其在汉代，人们以空前的热情讨论这两个问题，不仅是出于学者的学术乐趣，亦出于普通民众生存的需要。然而，正如孔子所说，在中国思想史上，对生的问题的关注似乎远胜于对死的问题的追问。有时候人们确实觉得后者更重要，但这并非由于死本身，而是因为人们最终分析认为，死是生的延续。

这段文字的核心观点是：

- A.孔子关于生死的看法对中国人产生深远影响
- B.生与死是中国思想史上长期受到关注的问题
- C.中国人对生与死的问题的讨论实际以生为旨归
- D.对生死问题的不同答案源自讨论者的不同观念

20.我国农业发展到今天,其中的任何一项工作都很难单项突进,现在结构调整引起了高度重视,但不能忽视其他方面的配套改革,尤其是必须加快市场化改革,建立全国的统一大市场,促进农村要素和产品自由流动。如果市场机制得不到应有的发育,那么以市场为导向的结构调整就失去了最重要的基础,区域化布局 and 比较优势的发挥也就无从谈起。

这段文字主要讨论的是:

- A.市场是农村结构调整的导向
- B.市场机制的优势未充分发挥
- C.农业市场化改革需要加快进行
- D.农业结构调整不可能一蹴而就

21.与相声在传媒中的冷清相比,周末相声俱乐部的火暴与人气,颇耐人寻味。在民众中诞生和成长的艺术,只有回到群众、回归生活,才能获得新的生命力。这种回归,如果没有与观众面对面的交流与切磋,失去了舞台的实践和锤炼,没有观众心领神会的捧腹大笑和心心相印的理解沟通,是不会达到的。

对这段文字概括最准确的是:

- A.生活实践是相声创作的源泉
- B.传统的相声表演形式亟需改变
- C.回归观众是相声俱乐部火暴的原因
- D.相声只有重返民间舞台才能重获新生

22.地震短期、临震预报仍是世界性难题,目前,精确预测地震的震级和时间还无法做到。国外地震学家普遍认为,地壳下层的塑性岩石或蛇纹岩被挤进地壳上层的裂缝中时,就会引发地震。这些容易滑动的蛇纹岩是由富含铁、镁的矿物与水作用而生成的,在此过程中会产生氢气。一旦该层发生断裂,氢气就经由断层的裂隙冒出,致使正常空气中的氢气浓度剧增。

这段文字的主旨是:

- A.说明地震并非不可预测
- B.描述地震发生的大致过程
- C.介绍一种地震预测的方法
- D.揭示地震与地层断裂的关系

23.在报道冲突的背景情况时,平衡(不偏不倚)的立场特别重要。一定不能蓄意地操纵事实以有利于一方的观点,每一方的观点都应该被公正地报道。然而,这种平



衡的概念并不意味着尽量以一种公正的方式去隐藏或掩饰某种不公正是正当的。如果所有的媒介都接受这种对平衡报道的不正当解释，那么公众将会得到一种重要印象，就是冲突的每一方都有基于其自身的平等的衡量公正的标准，这是和我们的生活经验与常识相矛盾的。

下列最能够表达上述论证的主要观点的是：

A.平衡的报道向公众提供一个事件的背景，其中冲突的所有各方都有平衡的为自己辩护的权利

B.我们的生活经验表明，确实存在由于不公正而引起冲突的事例，其中一方明显是错误的

C.平衡的报道是无法实现的理想，因为对平衡的判断必然是主观的

D.平衡的报道要求无偏见地揭露所发生的不公正现象，就像公正地报道冲突各方的观点一样

24.英格兰有一童谣《起风了，小猫饿死了》：起风了，风把窗帘掀起来了。窗帘拍倒了花瓶，花瓶的水洒到地板上了。地板湿了，老婆婆滑倒了。她撞坏了椅子，木匠来修椅子了。木匠砍倒了一棵树，大树把面包师的房子砸坏了。面包师搬家了，老鼠没东西吃了。老鼠不来了——小猫饿死了。

下列选项中，对这首童谣的意思理解最确切的一项是：

A.揭示了万事万物之间的因果关系

B.说明世界上万事万物都有直接的联系

C.夸张地描述人类社会的“多米诺现象”

D.提醒人们要注意身边的任何一件事物的变化

25.将下列打乱了次序的语句进行调整，使其还原为一篇精美的小小说。正确的一项是：

①他直起腰，快步朝前走去。

②五分硬币从他手指缝钻出，掉到地上。

③后面传来低低的细语和响亮的、富有节奏的高跟鞋敲打路面的声音；恍惚间，他看到了那熟悉的，随风摆动的裙子。

④他朝着校门外的瓜子摊儿走去，手伸进裤兜……

⑤只有那五分硬币静静地躺在那里……

⑥他弯下腰，刚要将它拾起……

⑦高跟鞋的声响也渐渐远去。

A.①②③④⑤⑥⑦

B.④②⑥③①⑦⑤

C.②⑤①③⑦⑥④

D.⑤⑥③④②⑦①

阅读以下文字，回答 26-30 题：

替《王干随笔选》“帮腔”者有两位，其中一位是原文化部长，名作家王蒙。王氏以短短数行，披露往事一桩：父亲辈的王蒙结识儿子辈的王干，仰仗的是爷爷辈的胡乔木。王蒙叙事，素有讲究。这段记忆列出风云学界的圣贤任继愈、金克木、季羡林，言之凿凿。寥寥数十字中，五六个人抱团纠结，互为策应，大有深意存焉。对小王来说，借老王之嘴，为自家新书鸣锣，绝非谬托知己。

新时期以来言路广开，催生出文坛无数“对话录”。只是泥沙俱下，多数讨人厌烦。有的一味偏激，只顾凸显个性；有的插科打诨，止于相互调情。而对话之应有货色，诸如问题探讨、理念交锋、志趣对决等等，则几近于无。有此前因，“二王”对话出笼之际，众人并不看好，即便闪耀出“王干干王蒙，王蒙蒙王干”的亮点，仍被误为二人心领神会的噱头。乃至读过对话，学问一点点水落石出，价值一点点雾去山明，人们方明白何谓铜与金，何谓骡子和马不一般。

打出道算起，王干舞文弄墨，近30余载。虽童颜依旧，但已脱尽生涩。就说这本《王干随笔选》，文字活泛如蝴蝶，气韵爽然如晨光，道行深幽如潭水，格局早已逸出小文坛，放眼大文化。如将他归类于杂家，并无不当，其品相、质地，皆纯正可靠，不乏“高人”端倪耳。一位成天读书的朋友，摇头晃脑向我鼓吹此书。他的意见是，假如你手头不空，就先干正事；如果你闲着也是闲着，就不妨翻翻，多数篇什，是会叫人开卷释怀的。

前几日，上街买书，老板温文尔雅，喜欢阅读，尤爱随笔类，将一段句子背我听：“随笔的功夫不在笔头上，而在人身上。一个工于心计的人写不好随笔，一个缺乏幽默感不能自我解嘲不能自我反思的人写不好随笔，一个不学无术的人不配写随笔，一个光知道掉书袋的人与随笔无缘。”此乃王干随笔生涯之心得，写在书尾“后记”里。老板背完，含笑相问，“任老师，王干的体会是不是很有见地？”



我替王干高兴，十位评论家对你的弘扬，抵不过一位书店老板对你的欣赏。前者言而无信，常常被人识破；后者借助切磋，可直接让读者掏出钱来，抱书回家。“名人为你助兴，固然雅致；生人替你卖书，才算实惠。老弟，你就偷着乐吧。”

26.文中划线的“言之凿凿”是说：

- A.王蒙的说法值得怀疑
- B.王蒙的说法属于噱头
- C.王蒙的说法貌似可靠
- D.王蒙的说法足以凭信

27.文中划线的“心领神会”可以替换为：

- A.暗藏玄机
- B.惺惺相惜
- C.心心相印
- D.心照不宣

28.与文意不一致的是：

- A.营销人士推崇就能拥有市场使得个人对好书的鼓吹成多余
- B.新时期文坛“对话录”多数讨人嫌
- C.“王干干王蒙，王蒙蒙王干”意味着有人认为《王干随笔选》不值得期待
- D.随笔要幽默有趣味，有思想光辉，王干因此受到名人的吹捧和市场追捧

29.“格局早已逸出小文坛，放眼大文化。如将他归类于杂家并无不当，其品相、质地皆纯正可靠，不乏‘高人’端倪耳”，意思是说：

- A.王干善于把握机会和人脉，足以成为商人般的杂家
- B.王干的见识和文品胜过一般作家评论家
- C.王干的幽默感和学术水平胜过大多数评论家
- D.王干善于拓展自己的学术范围，超越一般评论家

30.作者对《王干随笔选》的直接评价是：

- A.十位评论家对你的弘扬，抵不过一位书店老板对你的欣赏
- B.任老师，王干的体会是不是有见地
- C.学问一点点水落石出，价值一点点雾去山明
- D.对小王来说，借老王之嘴为自家新书鸣锣，绝非谬托知己

31.  $76^{2011} + 25^{2014}$  的最后两位数字是：

- A.01
- B.91
- C.21
- D.51

32.已知  $(x + \sqrt{x^2 + 1})(y + \sqrt{y^2 + 1}) = 1$ ，则  $x + y = ( )$ 。

- A.1
- B.2
- C.0
- D.不能确定

33. 一次校友聚会共有 50 人参加，在参加聚会的同学中，每个男生认识的女生人数各不相同，而且恰好构成一串连续的自然数。已知认识女生最少的一个男生认识 15 名女生，并有一名男生认识所有女生，则参加这次聚会的男生一共有：

- A. 16 名      B. 17 名      C. 18 名      D. 19 名

34. 某服装厂生产一种服装，每件的成本是 150 元，售价为 206 元，在市场实际销售时发现，服装销售获得的利润  $y$ （元）与市场临时降价  $x$ （元）的关系式为  $y = -x^3 + 12x^2 + 2240$ ，则服装厂获得利润最大时，服装销售价为（ ）。

- A. 8 元      B. 168 元      C. 198 元      D. 206 元

35. 从某车站以加速度为  $\frac{1}{18}$  米/秒<sup>2</sup> 始发的甲列车出发后 9 分钟，恰好有一列与甲

列车同方向，并以 50 米/秒作匀速运行的乙车通过该车站，则乙车运行多少分钟与甲车距离为最近？

- A. 9      B. 3      C. 5      D. 6

36. 有一队士兵排成若干层的中空方阵，外层共有 68 人，中间一层共有 44 人，则该方阵士兵的总人数是（ ）。

- A. 296 人      B. 308 人      C. 324 人      D. 348 人

37. 到超市购买商品，如买 7 件 A 商品，3 件 B 商品，1 件 C 商品共需 50 元，如购买 10 件 A 商品，4 件 B 商品，1 件 C 商品共需 69 元，若这三种商品各购买两件，则所需的钱数是（ ）。

- A. 28 元      B. 26 元      C. 24 元      D. 20 元

38. 某商店搞店庆，购物满 198 元可抽奖一次，一个袋中装有标号为 0 到 9 的 10 个完全相同的球，满足抽奖条件的顾客在袋中摸球，一共摸两次，每次摸出一个球（球放回），如果第一次摸出球上的数字比第二次摸出的大，即可获奖，则某抽奖顾客获奖的概率是（ ）。

- A. 5%      B. 25%      C. 45%      D. 85%

39. 某种商品，当单价是 15 元时可卖出 500 个，单价每上涨 1 元，卖出的个数就会减少 20 个，要使该商品销售额最大，则单价应是（ ）。

- A. 30 元      B. 28 元      C. 27 元      D. 20 元

40. 2017 年 2 月 15 日后第 80 天的日期是 ( )。

- A. 5 月 5 日                      B. 5 月 6 日                      C. 5 月 3 日                      D. 5 月 4 日

41. 桌面上有两个半径分别为 2 厘米和 40 厘米的圆环, 让小圆环沿着大圆环外边缘滚动一圈, 则小圆环滚动的圈数是 ( )。

- A. 10                      B. 20                      C. 40                      D. 80

42. 有 8 个盒子分别装有 17 个、24 个、29 个、33 个、35 个、36 个、38 个和 44 个乒乓球, 小赵取走一盒, 其余各盒被小钱、小孙、小李取走, 已知小钱和小孙取走的乒乓球个数相同, 并且是小李取走的两倍, 则小钱取走的各个盒子中的乒乓球最可能是 ( )。

- A. 17 个, 44 个                      B. 24 个, 38 个  
C. 24 个, 29 个, 36 个                      D. 24 个, 29 个, 35 个


43. 小张去机票代理处为单位团购机票 10 张, 商务舱定价为 1200 元/张, 经济舱定价 700 元/张。由于买的数量较多, 代理商就给予优惠, 商务舱按定价的 9 折付钱, 经济舱定价 6 折付钱, 如果他付的钱比按定价少 31%, 那么小张一共买了经济舱票的票数是 ( )。

- A. 7 张                      B. 6 张                      C. 9 张                      D. 8 张


44. 一瓶浓度为 80% 的酒精溶液倒出  $\frac{1}{3}$  后再加满水, 再倒出  $\frac{1}{4}$  后仍用水加满, 再倒出  $\frac{1}{5}$  后还用水加满, 这时瓶中溶液的酒精浓度是 ( )。

- A. 50%                      B. 30%                      C. 35%                      D. 32%


45. 下列图形均是由正方形与圆形所构成的, 图形中阴影部分的面积最大的是 ( )。



A. A 最大



B. B 最大



C. C 最大

D. 都一样大

46. 一则关于西瓜含有膨大剂可能影响身体健康的报道，对消费者产生的影响极小，几乎没有消费者打算改变他们购买西瓜的习惯。尽管如此，在该报道一个月后的七月份，某大型连锁超市的西瓜销量还是大大地下降了。

以下哪项如果为真，最能解释上述现象？

- A. 该类报道经常出现，到了七月份消费者已对该类报道漠不关心了
- B. 七月中旬后该大型连锁超市为表示对消费者负责，主动停止销售西瓜
- C. 食品专家认为，西瓜中仅含有少量的膨大剂，对身体健康不会造成危害
- D. 七月份上市的水果种类繁多，消费者购买其他水果以替代西瓜

47. 中国可利用地热的能源储量超过了国内所有化石类燃料加起来的能源储量，在某些地区把地热转变成电能的技术已经成为现实，中国下个世纪可能出现的能源短缺问题将由此而彻底解决。

以下哪项如果为真，最能削弱作者的上述观点？

- A. 在下个世纪的某些时候，地热被耗尽的现实将迫使中国更加依赖进口能源
- B. 任何生产电能的方法在生产电能的过程中都要耗掉一部分能源
- C. 由地热转变而来的电能长距离运输到人口密集的经济发达地区是不切实际的
- D. 一些科学家坚信，能源短缺问题可以通过提高能源利用效率和鼓励能源节约来解决

48. 所有切实关心员工福利的总经理，都被证明是管理艺术高超的总经理；而切实关心职工福利的总经理，都首先把注意力放在解决中青年员工的住房上。因此，那些不首先把注意力放在解决中青年员工住房上的总经理，都不是管理艺术高超的总经理。

为使上述论证成立，以下哪项必须为真？

- A. 所有管理艺术高超的总经理，都是关心员工福利的总经理
- B. 中青年员工的住房问题，是员工的福利中最为突出的问题
- C. 中青年员工的比例已经超过 90%
- D. 所有首先把注意力放在解决中青年员工住房上的总经理，都是管理艺术高超的总经理

49. 会玩的孩子更适应社会交往，心理也更健康；相反，不少性格内向、孤僻，甚至有交往困难等行为问题的孩子，大多小时候缺少和同伴的玩耍。如果一个孩子交往

技能比较差，就容易产生焦虑、紧张、多疑等负性情绪，从而影响正常生活和学习，如果这些负性情绪长期得不到释放，甚至可能导致退缩性人格。

由此可推出：

- A.只有给孩子充分的时间玩耍，孩子的心理才能健康发展
- B.只要让孩子有充分的时间玩耍，孩子的心理就能健康发展
- C.有心理缺陷的孩子，都是因为小时候没有得到足够的时间玩耍
- D.只要孩子会玩耍，长大后就能适应社会

50.精神病其实不是一个病理学的概念，而是一个社会学的概念，假如家属或权力机构强行把一个人送入精神病院，那么，这个人几乎只能被诊断成“精神病人”。家属和权力机构对他的“症状”的描述，成为判断他是否是精神病人的重要信息。而如果说受到了迫害，并进行反抗，则恰恰符合精神病诊断标准中关于“妄想”、“躁狂”之类的描述。他的自辩权利也被这个无敌的逻辑取消：你说自己不是精神病，那么，你恰恰在此时是，因为你拒绝承认自己有病——这正是精神病人的一种表现；而你承认了，你当然就是了。

以下哪项最可能从上述断定中推出？

- A.精神病的诊断标准仅仅是“精神病人”的家属或相关权力机构的指控
- B.家属或权力机构将某人送入精神病院，只是为了让他得到及时有效的治疗
- C.大多数在精神病院治疗的精神病人其实并没有精神病
- D.在自己是否患有精神病这一问题上，被强制关入精神病院的个人的表达是苍白无力的

51.面对能源危机，一些国家开始寻找替代能源，使用玉米加工车用乙醇汽油已不再是新鲜事了。因此不少人认为，使用玉米生产能源，既可以消化库存的陈化粮，又发展了石油替代能源，这将是未来能源发展的趋势之一，是利国利民的一项政策。

下列哪项如果为真，不能削弱上述结论？

- A.目前看来，生产车用乙醇汽油将消耗大量的水资源
- B.乙醇汽油会对车辆的发动机等关键部件造成严重腐蚀
- C.使用玉米作为生产能源，可以适当提高玉米价格，进而增加农民收入和农民种粮的积极性

D.生产 1 吨乙醇要消耗 3.3 吨玉米，如此一来，每年就要消耗玉米近万吨，这将危及全国的粮食储备

52.中国人大多是在批评与训斥中长大的，父母、老师、长辈、领导……看你哪一点不顺眼，都能给出指教。话多半不好听，可听者听了多半心悦诚服，心生感激，因为大家想的是良药苦口、忠言逆耳的道理。可是，逆耳的未必都是忠言。有种电话诈骗就是以很凶的方式出现的。电话里的他们就是要批评你、威胁你、吓唬你，一旦你心里打怵了，你就听他们的了；而你听了他们的，你也就上当了。

根据以上陈述，可以推出的是：

- A.有的逆耳之言可能不是忠言
- B.有的忠言并不逆耳
- C.有的电话诈骗的声音并不很凶
- D.如果听到逆耳的电话心里不打怵，你就不会上当

53.顾客：老板，你这盘鱼香肉丝里怎么没有鱼啊？

老板：这有什么奇怪！难道老婆饼里有老婆吗？

以下哪项的对话方式与上述最为相似或相同？

A.老师：小明，你为什么没有做我昨天布置的家庭作业啊？

小明：对不起，老师！难道没有回家也要做家庭作业吗？

B.妻：亲，你的钱包里怎么没有钱啊？

夫：这没有什么不正常！难道茶叶罐里总有茶叶吗？

C.孩子：妈妈，棉花糖里怎么没有棉花啊？

母亲：这很正常！难道你用的英雄墨水里藏了一个英雄吗？

D.顾客：小妹，你弄的珍珠奶茶里怎么没有珍珠？

售货员：这有什么稀奇！夫妻肺片里也没有夫妻啊！

54.亚马逊：京东：当当

- |             |             |
|-------------|-------------|
| A.键盘：鼠标：扫描仪 | B.湖泊：鲤鱼：鱼缸  |
| C.书包：课本：学生  | D.信号灯：红灯：绿灯 |
| 55.斯诺克：自由球  |             |
| A.网球：持球     | B.羽毛球：越位    |
| C.乒乓球：一米线   | D.篮球：罚篮     |



56.打车软件：滴滴打车

A.资本市场：利率

B.房地产：中介

C.资产：负债

D.上市公司：证券公司

57.富强 对于 ( ) 相当于 ( ) 对于 社会

A.国家，和谐

B.自由，法治

C.文明，诚信

D.民主，友善

58. ( ) 对于 铁矿石 相当于 板凳 对于 ( )

A.铲车，桌子

B.矿山，森林

C.矿工，木匠

D.铁粉，木料

59.语流音变是单个语音组合成连续的语音流时，连在一起的几个音由于说话时语速快慢、音量高低、语气强弱的不同，相互影响、相互适应，由此而产生的语音的变化。

根据上述定义，以下属于语流音变的是：

A.北京人说话喜欢加儿化音，几乎每个名词后面都可以加

B.安徽方言中“n”、“l”不分，会把“美女”读成“美铝”

C.英语里名词复数词尾-s 本来读清音 [s]，假如前面名词的最后一个音是浊音，就会受影响而变成浊音 [z]

D.英语国家的学习者受到母语的影响，在学汉语时会把“爸爸”说成“趴趴”

60.否定之否定是指在事物的发展过程中，经过两次否定所达到的阶段，否定之否定阶段的特征是“重新达到了原来的出发点，但这是在更高阶段上达到的”。

根据上述定义，以下关于否定之否定的说法错误的是\_\_\_\_\_。

A.否定之否定并不是否定已有的事物，而是对旧事物的扬弃

B.否定之否定规律表明事物的发展不是直线式前进的，而是螺旋式上升的

C.“同则存，异则变”、“求同存异”都是否定之否定的表现

D.“学习—实践—再学习—再实践”就是否定之否定的一种表现

61.派生需求又称为引致需求，它是指对生产要素的需求，意味着它是由对该要素参与生产的产品的需求派生出来的。

根据上述定义，以下属于派生需求的是：

A.为了举办会议，某公司预订了一家五星级酒店

- B.某小姐买了手提包后，需要再买与包相配的衣服和鞋子
- C.某公司组织架构调整后，需要马上招聘一位成熟的业务经理
- D.某物流公司随着业务量的增长，购买船舱的费用随着增加

62.同人作品指由爱好者对漫画、动画、游戏、小说、影视等作品进行衍生创作而形成的文章及相关图片、影音、游戏等。

根据上述定义，以下关于同人作品的观点错误的是：

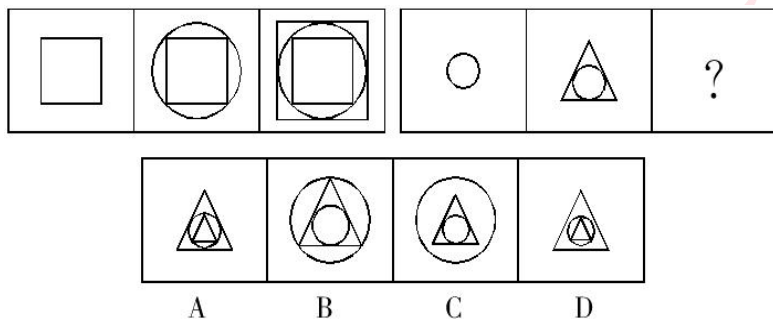
- A.同人作品属于“粉丝创作”
- B.同人作品属于二次创作
- C.同人作品不会侵犯版权
- D.同人作品包含了对艺术形式的改变

63.文化扩散是指思想观念、经验技艺和其他文化特质从一个社会传到另一个社会，从一地传到另一地的过程。

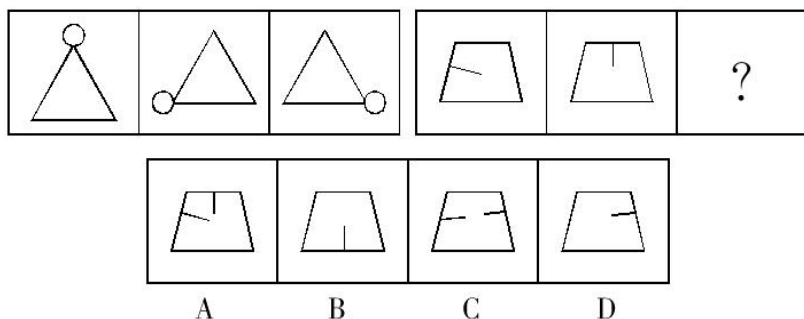
根据上述定义，以下属于文化扩散的是：

- A.某新娘从甲地嫁到乙地，到乙地的亲友们感受到了不一样的婚俗
- B.某阿姨的厨艺很好，她通过在小区的美食爱好者小组将厨艺分享给他人
- C.近代，大量的欧洲和非洲移民迁居美洲，她们将各地的节日美食和传统带了过去
- D.美国人杰克在中国旅游，中国特有的民俗和文化激起了他学习中文的兴趣

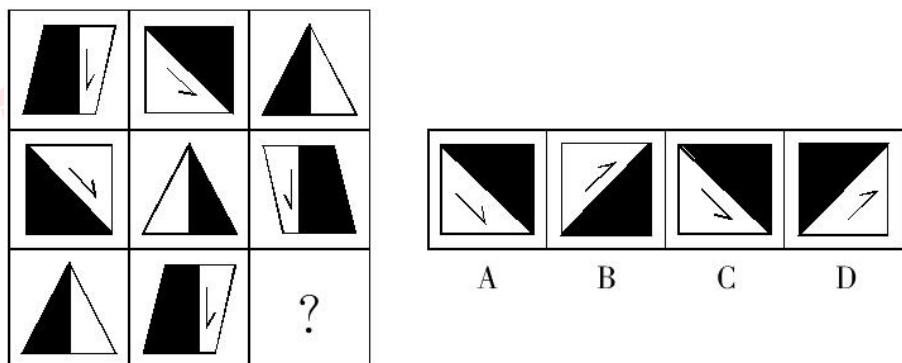
64.从下列四个选项中，选择最合适的一个填入括号内，使之符合一定的规律：



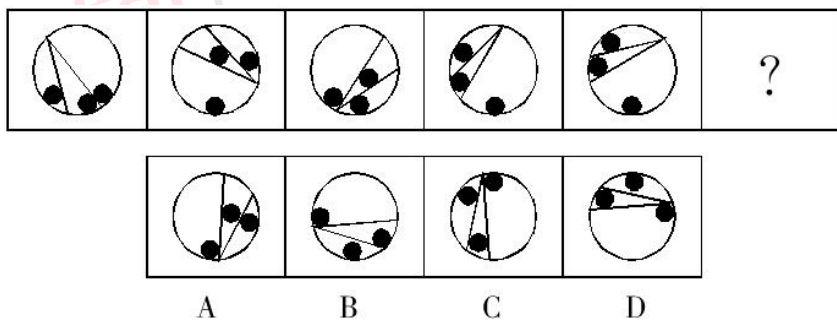
65.从下列四个选项中，选择最合适的一个填入括号内，使之符合一定的规律：



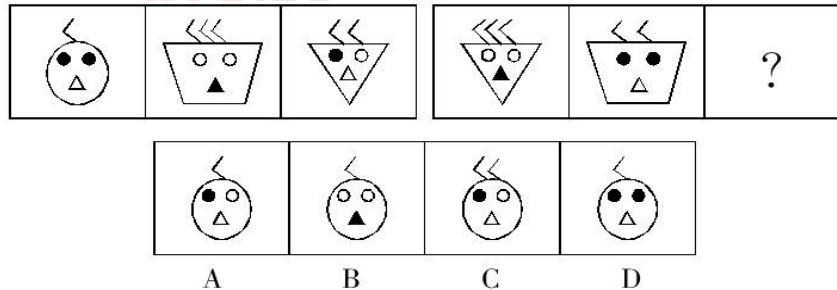
66. 从下列四个选项中，选择最合适的一个填入括号内，使之符合一定的规律：



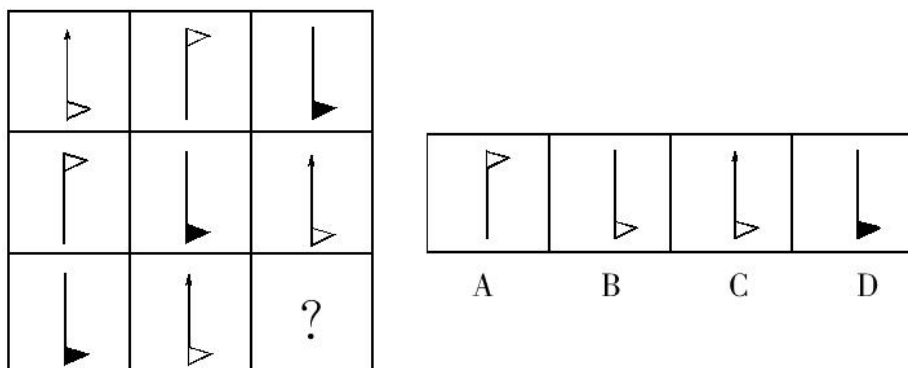
67. 从下列四个选项中，选择最合适的一个填入括号内，使之符合一定的规律：



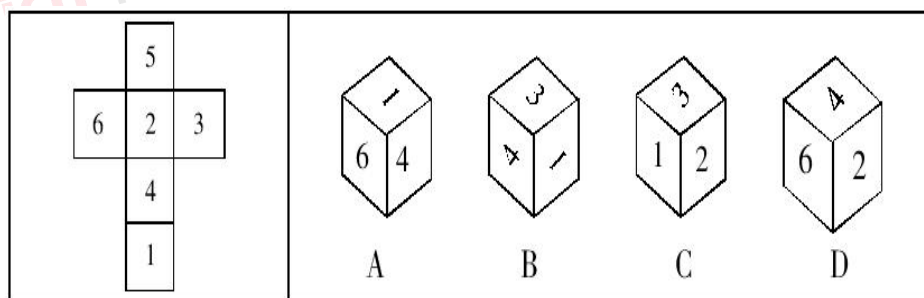
68. 从下列四个选项中，选择最合适的一个填入括号内，使之符合一定的规律：



69. 从下列四个选项中，选择最合适的一个填入括号内，使之符合一定的规律：



70. 左边给定的是纸盒的外表面，下面哪一项能由它折叠而成？



根据下面提供的信息回答 71~75 题。

表 2015 年 1-2 月份社会消费品零售总额主要数据

指 标	1~2 月	
	绝对量(亿元)	同比增长(%)
社会消费品零售总额	47993	10.7
其中:限额以上单位消费品零售额	21840	8.1
其中:网上商品零售额	3991	47.4
按经营地分		
城镇	41135	10.6
乡村	6858	11.6
按消费类型分		
餐饮收入	5079	11.2
其中:限额以上单位餐饮收入	1356	5.1
商品零售	42913	10.7
其中:限额以上单位商品零售	20484	8.4
其中:粮油食品、饮料烟酒	3278	9.6
服装鞋帽、针纺织品	2329	9.1
化妆品	322	9.9
金银珠宝	564	-2.4
日用品	763	14.6
家用电器和音像器材	1169	12.4
中西药品	1191	16.4
文化办公用品	379	10.0
家具	298	12.4
通讯器材	492	38.5
石油及制品	2667	-6.7
汽车	5549	10.8
建筑及装潢材料	349	12.5

71. 下列四类商品中，2015 年 1~2 月份商品零售额同比增长最快的是：

- A. 文化办公用品
- B. 家具
- C. 日用品
- D. 汽车

72. 2014 年 1~2 月份社会消费品零售额是：

- A. 42858.3 亿元
- B. 43207.5 亿元
- C. 43237.9 亿元
- D. 43354.1 亿元

73. 2015 年 1~2 月份石油及制品的销售额同比减少绝对量是：

- A. -178.7 亿元
- B. 191.5 亿元
- C. 291.2 亿元
- D. 332.9 亿元

74. 2014 年 1~2 月份网上商品零售额占社会消费品零售额的比重是：

- A. 6.25%
- B. 8.11%
- C. 8.32%
- D. 10.70%

75. 根据上述资料，下列说法正确的是：

- A. 农民的总体消费能力相对较高
- B. 中西药品零售额的增长速度高于化妆品
- C. 限额以上单位餐饮收入是餐饮收入的主体
- D. 社会消费品零售总额按消费类型分限额以上单位餐饮收入和限额以上单位商品零售

根据以下资料，回答 76~80 题。

2014 年前 9 个月江苏钢材产量稳步增长。其中 1~2 月产量为 1932 万吨、累计同比增长 10.0%，3 月产量为 1127 万吨、1~3 月累计同比增长 8.5%，4 月产量为 1013 万吨、1~4 月累计同比增长 7.3%，5 月产量为 1156 万吨、1~5 月累计同比增长 6.1%，6 月产量为 1236 万吨、1~6 月累计同比增长 6.3%，7 月产量为 1094 万吨、1~7 月累计同比增长 4.9%，8 月产量为 1050 万吨、1~8 月累计同比增长 3.8%，9 月产量为 1149 万吨、1~9 月累计同比增长 3.7%。前 9 个月江苏生铁、粗钢产量及其同比增长情况见下图。



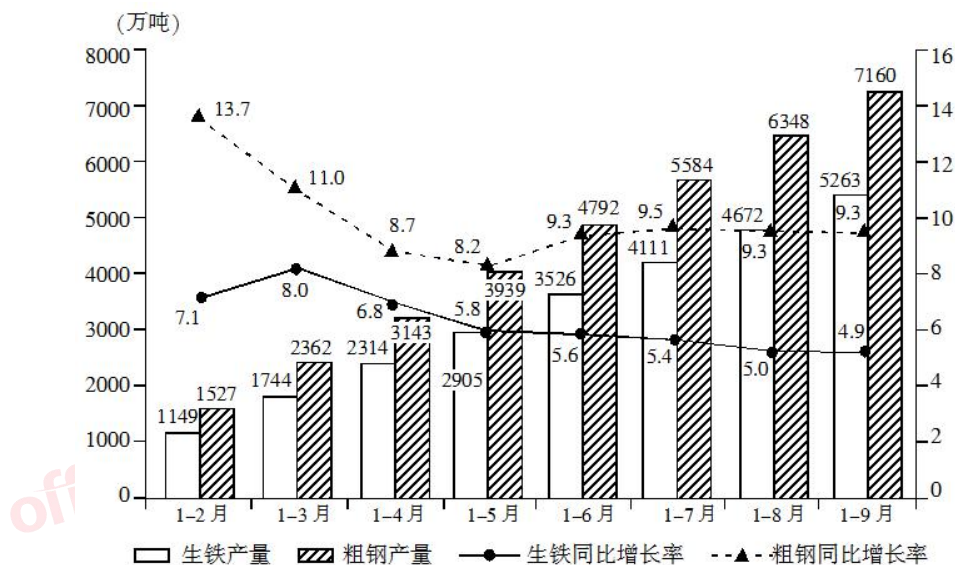


图 2014 年 1~9 月江苏生铁、粗钢产量及其同比增长率

76.2014 年 9 月江苏的粗钢产量比上月增加了：

- A.56 万吨      B.48 万吨      C.43 万吨      D.40 万吨

77.2014 年第二、三季度江苏生铁月产量超过 600 万吨的月份个数有：

- A.1 个      B.2 个      C.3 个      D.4 个

78.2014 年 9 月江苏钢材产量是生铁产量的：

- A.1.5 倍      B.1.9 倍      C.2.2 倍      D.2.4 倍

79.2014 年 6~9 月江苏粗钢产量同比增长率最低的月份是：

- A.6 月      B.7 月      C.8 月      D.9 月

80.下列说法不正确的是：

- A.2014 年第三季度江苏的生铁产量为 1737 万吨  
 B.2014 年 1-9 月江苏钢材产量同比增速呈现下降趋势  
 C.2014 年 2-9 月江苏粗钢产量的年内累计同比增速一直高于钢材和生铁  
 D.2014 年前三季度江苏钢材的月产量都高于 1000 万吨

81. 对待腐败现象要“防微杜渐”以免“千里之堤溃于蚁穴”是因为：

- A.事物之间是相互联系和相互影响的  
 B.量变达到一定程度必然引起质变

- C.事物是普遍发展的
- D.发展是新事物产生和旧事物灭亡

82. 我们生活的世界其实是一幅由各种事物种种联系和相互作用无穷无尽交织起来的画面。这句话表明:

- A.世界是普遍联系的
- B.世界是普遍发展的
- C.世界上一切事物是可以认知的
- D.世界是物质的

83. 管理的一般性是指:

- A.管理普遍存在于一切社会协作和社会公共生活过程中
- B.管理具有特定的社会历史性质
- C.管理必须按照客观规律,按照科学规范的要求,运用科学方法进行
- D.一切管理活动都应该从实际出发,具体情况具体分析

84. 经济学上所讲述的“利润”是指:

- A.平均利润
- B.长期利润
- C.短期利润
- D.超额利润

85. 香烟点燃后,冒出的烟雾看上去是蓝色的,这是因为:

- A.烟雾将光线中其他色光滤掉,只有蓝色透射出来
- B.烟雾的颗粒本身是蓝色的
- C.烟雾的颗粒吸收光线后,发出蓝色荧光
- D.烟雾的颗粒对蓝色光散射强烈

86. 世界上第一台电子计算机的逻辑元件是:

- A.继电器
- B.晶体管
- C.电子管
- D.集成电路

87. 中国古代战国时期曾经出现过比较强大的七个国家,称为战国七雄,他们是:

- A.燕赵韩魏齐楚秦
- B.鲁秦楚越赵韩魏
- C.吴韩赵魏秦楚蜀
- D.宋燕赵韩魏齐周

88. 近代中国以“师夷长技以制夷”为代表的新思潮产生的重大影响是:

- A.标志着闭关锁国政策的结束
- B.奠定了维新变法运动的思想基础
- C.推动中国人重新认识世界
- D.传播了以法治国的思想

89. 关于琴棋书画,下列说法不正确的是:

- A.米芾的山水画自成一家
- B.东晋书法家王献之被称为“书圣”
- C.围棋在我国古代称为“弈”
- D.“高山流水”讲的是琴师俞伯牙

90. 回归线, 是太阳每年在地球上直射来回移动的分界线, 是地球上:
- A. 热带与温带的分界线                      B. 低纬与高纬的分界线
- C. 温带与寒带的分界线                      D. 极昼与极夜的分界线
91. 根据地理常识, 下列对应关系正确的是:
- A. 阿斯旺大坝——埃及                      B. 吴哥窟——缅甸
- C. 泰姬陵——泰国                              D. 巴比伦城遗址——以色列
92. 公文用于处理公务, 具有行政机关赋予的影响力, 这说明:
- A. 公文的制作者只能是组织                      B. 公文具有特定效力
- C. 公文的法制性强                              D. 公文的内容必须规范
93. 以下公文成文日期正确的是:
- A. 2014 年 9 月 20 日                              B. 2014 年九月二十日
- C. 二〇一四年九月二十日                              D. 二零一四年九月二十日
94. 市场经济是实现资源配置的一种有效形式。这种配置主要是通过:
- A. 对外出口来实现的                              B. 政府宏观调控来实现的
- C. 价格机制来实现的                              D. 银行信贷来实现的
95. 社会主义核心价值观中, \_\_\_\_\_ 强调公民之间应该互相尊重、互相关心、互相帮助、和睦友善的形成社会主义的新型人际关系。
- A. 文明                              B. 民主                              C. 诚信                              D. 友善
96. 在社会主义初级阶段, 我国的一项基本经济制度是:
- A. 以公有制为主体, 多种所有制经济共同发展
- B. 以私营企业为主体, 多种所有制经济共同发展
- C. 以集体所有制经济为主体, 多种所有制经济共同发展
- D. 以全民所有制经济为主体, 多种所有制经济共同发展
97. 十九大报告里指出, 我国经济已由高速增长阶段转向\_\_\_\_\_, 正处在转变发展方式、优化经济结构、转换增长动力的攻关期, 建设现代化经济体系是跨越关口的迫切要求和我国发展的战略目标。
- A. 中高速增长阶段                              B. 高质量发展阶段
- C. 中速增长阶段                                  D. 中高质量发展阶段
98. 甲、乙分别拥有同一套房屋的 60% 和 40% 的份额, 甲准备转让该房屋, 则:

- A.甲所占份额超过一半，可以自由转让
- B.甲只有在乙同意的情况下才能转让
- C.甲应当通知乙，乙有优先购买权
- D.甲只能转让给乙，不得对外转让

99. 下列有关劳动合同的观点，正确的是：

- A.试用期满后劳动者与用人单位订立的劳动合同方能生效
- B.不得违反法律、行政法规的规定是订立劳动合同方能生效的次要原则
- C.劳动合同依法订立即具有法律约束力
- D.劳动合同的签订应坚持既要有利于生产，又要保障基本生活的原则

100. 下列具体行政行为中，不在行政复议的范围内的是：

- A.陈某认为行政机关对其作出的罚款处罚不合理
- B.张某不服行政机关对其任免的决定
- C.梁某认为行政机关侵犯其合法的经营自主权
- D.刘某不满行政机关吊销其营业执照的处罚决定