

2018 中国烟草招聘考试

备考练习

《暑假作业》

1.前些年,从_____的市中心搬家到尚未完全开发的新区。住宅临河,两岸绿竹簇簇,鸟叫蝉鸣,水流风动,空气清新;房侧有一池塘,水草繁茂,鲫鱼穿梭;前方田野开阔,一片葱茏。晚上,河滩上、池塘中、田野里,蛙声齐鸣,_____,恰似从几个立体音响发出的立体声,浑厚而_____。

依次填入划横线部分最恰当的一项是:

- A.纷繁复杂 交相辉映 沧桑
- B.纷纷扰扰 余音绕梁 优美
- C.热闹喧嚣 遥相呼应 和谐
- D.繁荣兴盛 此起彼伏 清晰

2.在乡村,老牛与牧童彼此守望。庄稼人面朝黄土,把自己生命的期望播种进_____的泥土里,把一切梦想向季节里扔去,和庄稼、土地一起_____,一起金黄。在鲜润的土地上,将十指插入泥土,攥一把,闻一闻泥土的清香,然后把泥土捏出心中渴望的形状,那是老农一生重复了多少次的庄重礼仪和神奇享受。_____的身影和溅落的汗珠也被编成一个章节,使故事闪现着更加真实的笑声,_____在季节深处的笑容和粗犷的酒歌里。

依次填入划横线部分最恰当的一项是:

- A.黝黑 葱郁 消瘦 镶嵌
- B.广袤 成长 清瘦 洒落
- C.湿润 葱郁 健硕 飘落
- D.厚重 成长 矫健 凝结

3.罗马是一座古色古香、历史悠久、充满_____和艺术气息的城市,是用艺术品装饰得最多的地方,是_____的露天开放博物馆,具有独特风格,万般诱人。但也有人说,罗马_____ ,小偷多,骗子多,不如其他欧洲国家的首都好。

依次填入划横线部分最恰当的一项是:

- A.柔情蜜意 首屈一指 藏污纳垢
- B.诗情画意 美轮美奂 徒有虚名
- C.柔情蜜意 光怪陆离 乌烟瘴气
- D.诗情画意 包罗万象 破烂肮脏

4.创新活动还有一个特点:越是能对人类社会产生重大作用的创新,越要依赖于个人的天赋、努力和不可预知的_____,而不是集中的控制。并且,越是有价值的创新活动,也就越_____。因为,重大的发明往往在很多方面_____了人们对已知事物的理解,而集中控制所依据的,恰恰只能是这种理解。

依次填入划横线部分最恰当的一项是:

- A.随机性 坚强 超越 B.必然性 虚弱 背离
- C.偶然性 脆弱 超出 D.随意性 顽强 违背

5.中国真正进入全球化的坐标体系，也就在这短短三十多年。但就是在这三十多年里，我们写下了让世界_____的“中国故事”。从_____的革命年代，到_____的建设岁月，再到_____的改革时期，在不断探索和奋斗中，我们形成和发展了中国特色社会主义道路。

依次填入划横线部分最恰当的一项是：

- A.惊异 战火纷飞 激情燃烧 轰轰烈烈
- B.惊叹 硝烟弥漫 激情燃烧 波澜壮阔
- C.惊异 战火纷飞 热情奔放 轰轰烈烈
- D.惊叹 硝烟弥漫 热情奔放 波澜壮阔

6.无论是战后一些国家飞速发展，还是“金砖五国”重构世界版图，奇迹也好，飞腾也罢，都是一步一个脚印干出来的，_____有利的发展机遇、_____更好的体制机制、地革除自身弊病、_____迎接风险挑战，这是一个长期积累的过程，也就是一个持续奋斗的过程。

依次填入划横线部分最恰当的一项是：

- A.控制 构建 坚决 自信
- B.把握 建设 勇敢 积极
- C.控制 建设 坚决 积极
- D.把握 构建 勇敢 自信

7.古人提倡“吾日三省吾身”，_____，而今天有些人则不然，总是_____，对比之下，实在不应该。

填入划横线部分最恰当的一项是：

- A.修身养性 瑕不掩瑜
- B.兢兢业业 好大喜功
- C.闻过则喜 讳疾忌医
- D.博采众长 刚愎自用

8.在近代中国的历史上，各种思想呈现一种“你方唱罢我登场”的流动局面，似乎没有什么思想观念可以_____。

填入划横线部分最恰当的一项是：

- A.脱颖而出
- B.一以贯之
- C.不绝如缕
- D.鹤立鸡群

9.知识分子与权力之间应该保持一种怎样的关系？拥抱还是抵制？胡适的选择很特别，他在大方向上不反对国民党政权，但他终生不愿当官，他看重的是知识分子独立发表见解的_____。翻遍《胡适年谱》，不难发现，作为知识分子领袖，他一生与知识分子往来最多，其次是与国民党高层颇多交流，但几乎从无和新兴的企业家阶层交往的记录。抛开中产阶级而欲求民主、自由，无异于_____，这大概是胡适的局限，也是其他自由主义者应该深思的问题。

填入划横线部分最恰当的一项是：

- A.权力 刻舟求剑 B.自由 南辕北辙
C.权利 缘木求鱼 D.权益 水中捞月

10.“制作粗糙，_____”，某文艺评论家这样点评当下国内的许多多媒体舞蹈作品。把几段现成的图像符号式地投射在背景屏幕上充当画外音，充其量只是布景道具的升级版。多媒体效果太过目眩神迷，与舞蹈_____，有一种独立于表达之外的野心。比如有一个多媒体舞蹈，投射在大屏幕上的图案随着演员的每个动作变幻：演员伸展双臂，身后便出现万丈光芒，演员抱住身体，灯光也随之黯淡，看上去是在配合表演，其实是在和演员争夺观众的眼球，舞蹈彻底沦为了配角。

填入划横线部分最恰当的一项是：

- A.哗众取宠 失枝脱节 B.喧宾夺主 貌合神离
C.主次颠倒 亦步亦趋 D.避重就轻 格格不入

11.文学评论中，对形式的模仿与内容的抄袭，不应_____；对早期的作品和现在的创作，不可_____。

填入划横线部分最恰当的一项是：

- A.相提并论 等量齐观 B.等量齐观 混为一谈
C.混为一谈 同日而语 D.同日而语 相提并论

12.真正伟大的历史人物，他所展现出来的价值和意义，绝不是他处的那个时代所能够局限的，一定可以超越他所在的那个具体的时代和具体的生存环境，超越时空，焕发出永恒的价值。

填入划横线部分最恰当的一项是：

- A.历久弥新 B.日新月异
C.亘古不变 D.与日俱增

13.自文艺复兴以来，特别是第一次世界大战期间，因为民族主义和阶级斗争等意识形态作祟产生了一系列伤亡惨重的战争。其中，许多知识分子起到了_____的作用，他们或打扮成青年导师和精神领袖，_____种族差异、民族至上和阶级对立，或投笔从戎，直接参与战争。对这一现象，哲学家班达不以为然，认为知识分子假借种族主义、民族主义和阶级斗争_____了知识分子的价值理想。

填入划横线部分最恰当的一项是：

- A.助纣为虐 膜拜 击碎 B.中流砥柱 批判 展现
C.推波助澜 鼓吹 背叛 D.力挽狂澜 抨击 彰显

14.改进文风，_____是语言问题、技术问题，_____是思想问题、感情问题。那些居高临下的呆板表述，固然与文字水平有关，但本质上反映的却是对待读者、对待群众的

态度；那些了无新意的应景报道，_____是创新能力不强，_____是对世情党情国情缺乏深刻认识；那些穿靴戴帽的官样文章，看似热闹，但却令人生厌，让人反感。

填入划横线部分最恰当的一项是：

- A.既 又 要么 要么 B.既 又 与其说 不如说
C.不仅 更 要么 要么 D.不仅 更 与其说 不如说

15.古人常将“道德文章”连用，文以载道是_____的传统。如何高扬道德之善也应是文学的永恒主题。这样的道理早已为人们所熟知，但熟知并非真知，我们恰恰常在这些的问题上陷入迷津。

填入划横线部分最恰当的一项是：

- A.源远流长 老生常谈 B.根深蒂固 似是而非
C.妇孺皆知 见仁见智 D.至高无上 细枝末节

16.文化体现在一个人如何对待他人、对待自己、如何对待自己所处的自然环境。在一个文化厚实的社会里，人懂得尊重自己，不苟且，所以有品位；人懂得尊重别人，不_____，所以有道德；人懂得尊重自然，不_____，所以有永续的智能。

填入划横线部分最恰当的一项是：

- A.卑微 贪婪 B.野蛮 索取
C.势利 强求 D.霸道 掠夺

17.艺术不是象牙塔里的_____，所谓的“为艺术而艺术”，说到底不过是唯美主义的志向。自古以来，艺术就与政治、经济、信仰等种种意识形态因素甚至流行时尚有着千丝万缕的关系。

填入划横线部分最恰当的一项是：

- A.闭门造车 虚无缥缈 B.孤芳自赏 一厢情愿
C.顾影自怜 孜孜以求 D.自命清高 遥不可及

18.当人类还没有发明文字时，岩画可能就已经诞生了。如今古人记载在绢帛、纸张、器物上的文字多已_____，而凿刻、绘制在石头之上的岩画却被完整地保存了下来。不要小看这些粗放的线条、简单的图形、晦涩的符号，也不要说那些“跃然”石上的羊、牛、马、虎、豹、驼等动物图案过于_____，更不要忽略那些狩猎、祭祀、争战、歌舞的画面，那里面可能都含有极为丰富的内涵。

填入划横线部分最恰当的一项是：

- A.化为乌有 抽象 B.不翼而飞 粗糙
C.荡然无存 直白 D.踪迹难觅 普通

19.原始森林的主要成分是树木，但如果没有缠绕在树木之间的藤蔓，没有那些空间的灌木和杂草，没有那些_____或蹲守于茂密丛林的走兽飞禽，这个原始森林也就了。

填入划横线部分最恰当的一项是：

- A. 抢夺 飞越 名存实亡 B. 抢占 栖息 徒有虚名
C. 争夺 穿梭 名不副实 D. 争占 寄居 朝不保夕

20. 紫藤很适合作花架、绿廊，可形成浓叶满架、繁花浩荡的美景，千姿百态，甚为优美。紫藤长长的花序都是上面的先_____，下面的待放，花的颜色便是上浅下深，好像那紫色是_____下来的；唐代诗人李白“紫藤挂云木，花蔓宜阳春，密叶隐歌鸟，香风流美人”的诗句，生动地_____出紫藤优美迷人的姿态。

填入划横线部分最恰当的一项是：

- A. 绽放 积累 勾勒 B. 生长 浸润 描摹
C. 萌发 流淌 表达 D. 盛开 沉淀 刻画

21. 民主是联合国的核心价值，是人权的关键。民主为解决各种分歧提供了渠道，给边缘人群带来希望。但民主并非_____，需要培养和捍卫。

填入划横线部分最恰当的一项是：

- A. 唾手可得 B. 纸上谈兵 C. 一劳永逸 D. 近在咫尺

22. 投资也好，理财也好，并不只有股票一个品种。期货、债券、基金、钱币、古玩、艺术品，多花一点时间去关注一下，总会有收获。但一定要“_____”，根据本人的资金实力和风险承受情况来决定投资的品种和方式。

填入划横线部分最恰当的一项是：

- A. 削足适履 B. 量体裁衣 C. 披沙拣金 D. 慧眼识珠

23. 当有来自同龄人的压力时，个人往往会有上进的动力，向比自己更优秀的目标靠近。但是，过度的同辈压力可能使人攀比，也会给社会带来急功近利、浮躁、拜金等不良风气。处理同辈压力的关键是要懂得_____，要学会放得下一些东西。

填入划横线部分最恰当的一项是：

- A. 知难行易 B. 张弛有度
C. 适可而止 D. 量力而行

24. 近来，微博上流行一句“是中国人就转”的口号，这是用一面澎湃激昂的民族情怀大旗，迎风一展，遮住大众的眼睛，眼花缭乱间，既剥夺民众独立思考的能力，又_____他人自由的意志。爱国主义是其廉价外衣，使人跟风盲从是其内在属性，看似强大逻辑的背后，实则是批判的缺失与思想的_____。

填入划横线部分最恰当的一项是：

- A. 胁迫 单薄 B. 要挟 浅薄
C. 裹挟 贫瘠 D. 挟持 苦闷

25. 竞争环境的变化不断产生威胁，也不断产生机会。任何企业对此都必须时刻关注，才能_____。任何对竞争环境变化的_____，都会给企业造成严重甚至致命的打击。

填入划横线部分最恰当的一项是：

- A.趋利避害 疏忽 B.高枕无忧 漠视
C.脚踏实地 迟钝 D.未雨绸缪 抵触

26.某条道路安装了 60 盏功率相同的路灯，如将其中 24 盏的灯泡换为 200 瓦的节能灯泡，则所有路灯的耗电量将比之前节约 20%。如将所有灯的灯泡换为 150 瓦的节能灯泡，则耗电量能比之前节约多少？

- A.62.5% B.50% C.75% D.64%

27.甲、乙两工厂接到一批成衣订单，如一起生产，需要 20 天时间完成任务，如乙工厂单独生产，需要 50 天时间才能完成任务。已知甲工厂比乙工厂每天多生产 100 件成衣，则订单总量是多少件成衣？

- A.8000 B.10000 C.12000 D.15000

28.小王在每周的周一和周三值夜班。某月他共值夜班 10 次，则下月他第一次值夜班可能是几号？

- A.2 B.3 C.4 D.5

29.小王乘坐匀速行驶的公交车和人行道上与公交车相对而行、匀速行走的小李相遇，30 秒后公交车到站，小王立即下车与小李同一方向匀速快步行走。已知他行走的速度比小李的速度快一倍但比公交车的速度慢一半，则他多久之后追上小李？

- A.3 分钟 B.2 分钟 30 秒
C.2 分钟 D.1 分钟 30 秒

30.某商店进了 5 件工艺品甲和 4 件工艺品乙。如将甲加价 110%，乙加价 90%出售，利润为 302 元；如将乙加价 110%，甲加价 90%出售，利润为 298 元。则甲的进价为每件多少元？

- A.14 B.32 C.35 D.62.5

31.某工厂有甲、乙两个车间，其中甲车间有 15 名、乙车间有 12 名工人。每个车间都安排工人轮流值班，其中周一到周五每天安排一人、周六和周日每天安排两人。某个星期一甲车间的小张和乙车间的小赵一起值班，则他们下一次一起值班是星期几？

- A.周一、周二或周三中的一天 B.周四或周五中的一天
C.周六 D.周日

32.有 8 人要在某学术报告会上作报告，其中张和李希望被安排在前三个作报告，王希望最后一个作报告，赵不希望在前三个作报告，其余 4 人没有要求。如果安排作报告顺序时要满足所有人的要求，则共有多少种可能的报告序列？

- A.441 B.484 C.529 D.576

33.小王围着人工湖跑步，跑第二圈用时是第一圈的两倍，是第三圈的一半，三圈共用时 35 分钟。如小王跑第四圈和第五圈的时间分别是上一圈的一半，则他跑完 5 圈后，平均每圈的用时为多少分钟？

- A.8 B.9 C.10 D.11

34.甲、乙两个班各有 40 多名学生，男女生比例甲班为 5:6，乙班为 5:4。则这两个班的男生人数之和比女生人数之和（ ）。

- A.多 1 人 B.多 2 人 C.少 1 人 D.少 2 人

35.小张工作的时间是 12 点到 19 点。某天小张在上班时先后参加了两个时长为半小时的讨论会，两个讨论会开始时小张手表上的时针和分针都呈 90 度角。则两个会议的开始时间最多间隔（ ）。

- A.6 小时 B.6 小时 $4\frac{10}{11}$ 分
C.6 小时 30 分 D.6 小时 $35\frac{1}{11}$ 分

36.某工厂的两个车间共有 120 名工人，每名工人每天生产 15 件设备。如果将乙车间工人的 $\frac{1}{3}$ 调到甲车间，则甲车间每天生产的设备数将比乙车间多 120 件。问原来乙车间比甲车间多多少人？（ ）

- A.12 B.24 C.36 D.48

37.一本书有 100 多页，小王每天看固定的页数，看了 18 天后，发现未看的页数正好是已看页数的 $\frac{2}{3}$ ，又看了 7 天后发现未看的页数正好比已看的页数少 100 页。问这本书共有多少页？（ ）

- A.180 B.160 C.150 D.120

38.一批游客中每人都去了 A、B 两个景点中至少一个。只去了 A 的游客和没去 A 的游客数量相当,且两者之和是两个景点都去了的人数的 3 倍。则只去一个景点的人数占游客总人数的比重为()。

- A. $\frac{2}{3}$ B. $\frac{3}{4}$ C. $\frac{4}{5}$ D. $\frac{5}{6}$

39.一个由 4 个数字(0-9 之间的整数)组成的密码,每连续两位都不相同,问任意猜一个符合该规律的数字组合,猜中密码的概率为()。

- A. $\frac{1}{5040}$ B. $\frac{1}{7290}$ C. $\frac{1}{9000}$ D. $\frac{1}{10000}$

40.A 和 B 为正方体两个相对的顶点,一个点从 A 出发沿正方体表面以最短路径移动到 B,则其可选择的路线有几条?

- A.2 B.3 C.6 D.12

41.张、王、刘和李四人进行象棋比赛,每两人之间都要赛一局。已知张胜了两局,王平了三局,问刘和李加起来最多胜了几局?()

- A.0 B.1 C.2 D.3

42.甲和乙在长 400 米的环形跑道上匀速跑步,如两人同时从同一点出发相向而行,则第一次相遇的位置距离出发点有 150 米的路程;如两人同时从同一点出发同向而行,问跑得快的人第一次追上另一人时跑了多少米?()

- A. 600 B.800 C.1000 D.1200

43.一项工程,甲一人做完需 30 天,甲、乙合作完成需 18 天,乙、丙合作完成需 15 天。甲、乙、丙三人共同完成该工程需:

- A.8 天 B.9 天 C.10 天 D.12 天

44.已知 2008 年的元旦是星期二,问 2009 年的元旦是星期几?

- A.星期二 B.星期三 C.星期四 D.星期五

45.某街道常住人口与外来人口之比为 1:2,已知该街道下辖的甲、乙、丙三个社区人口比为 12:8:7。其中,甲社区常住人口与外来人口比为 1:3,乙社区为 3:5,则丙社区常住人口与外来人口比为:

- A.1:2 B.1:3 C.2:3 D.3:4

46.某单位 200 名青年职工中，党员的比例高于 80%，低于 81%，其中党龄最长的 10 年，最短的 1 年。问该单位至少有多少名青年职工是在同一年入党的？

- A.14 B.15 C.16 D.17

47.两个型号的电视定价都是 4000 元。其中购买 A 型号电视可获得 350 元的国家节能补贴。购买 B 型号电视无法获得节能补贴，但可以参加“每满 300 元减 20 元”的促销活动。问 A 型号电视的实际成交价格比 B 型号电视？

- A.高 50 元 B.低 50 元 C.高 90 元 D.低 90 元

48.小张和小赵从事同样的工作，小张的效率是小赵的 1.5 倍。某日小张工作几小时后小赵开始工作，小赵工作了 1 小时之后，小张已完成的工作量正好是小赵的 9 倍。再过几个小时，小张已完成的工作量正好是小赵的 4 倍？

- A.1 B.1.5 C.2 D.3

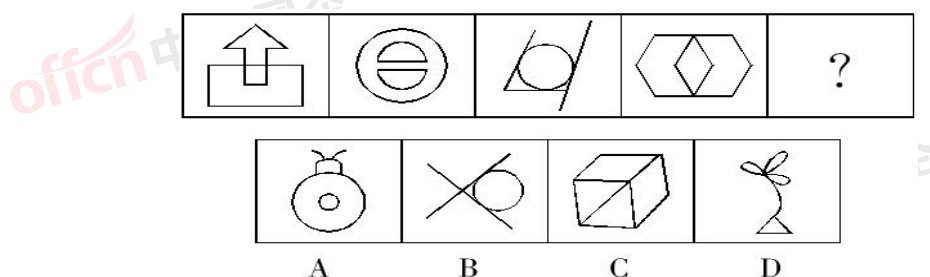
49.某条道路的一侧种植了 25 棵杨树，其中道路两端各种有一棵，且所有相邻的树距离相等。现在需要增种 10 棵树，且通过移动一部分树(不含首尾两棵)使所有相邻的树距离相等，则这 25 棵树中有多少棵不需要移动位置？

- A.3 B.4 C.5 D.6

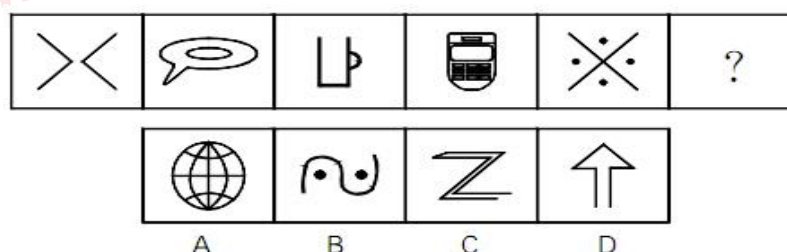
50.老王和老赵分别参加 4 门培训课的考试，两人的平均分数分别为 82 和 90 分，单个人的每门成绩都为整数且彼此不相等。其中老王成绩最高的一门和老赵成绩最低的一门课分数相同，问老赵成绩最高的一门课最多比老王成绩最低的一门课高多少分？

- A.20 B.22 C.24 D.26

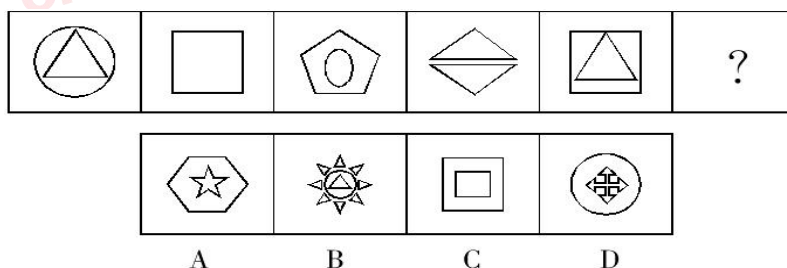
51.从所给的四个选项中，选择最合适的一个填入问号处，使之呈现一定的规律性：



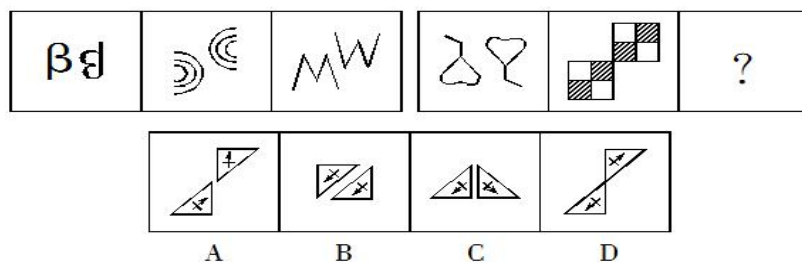
52.从所给的四个选项中，选择最合适的一个填入问号处，使之呈现一定的规律性：



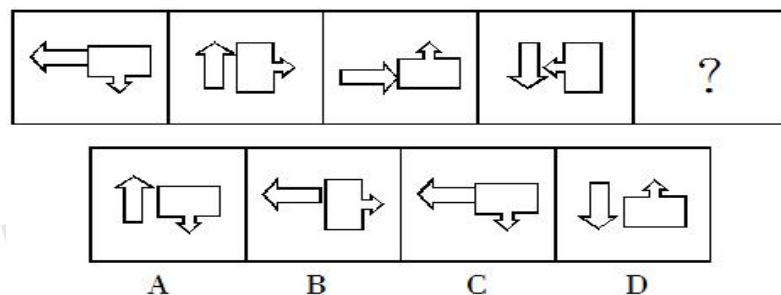
53.请在以下图形中仔细观察，寻找规律，并选出你认为最合适的选项：



54.请在以下图形中仔细观察，寻找规律，并选出你认为最合适的选项：



55.请在以下图形中仔细观察，寻找规律，并选出你认为最合适的选项：



56.青蛙效应，是指把一只青蛙扔进开水里，它因感受到巨大的痛苦便会用力一蹬，跃出水面，从而获得生存的机会。当把一只青蛙放在一盆温水里并逐渐加热时，由于青蛙已慢慢适应了那惬意的水温，所以当温度已升高到一定程度时，青蛙便再也没有力量跃出水面了。于是，青蛙便在舒适之中被烫死了。

根据上述定义，下列体现了青蛙效应的是：

- A.生于忧患，死于安乐
- B.不入虎穴，焉得虎子
- C.非淡泊无以明志，非宁静无以致远
- D.千里之行，始于足下

57.就业，是指在法定年龄内的具有劳动能力的人，运用生产资料从事合法劳动，并获得相应的劳动报酬的经济活动。

根据以上的定义，下列行为中属于该概念的范畴的是：

- A.盲人杨某在某按摩馆担任高级按摩师
- B.来自农村的大学生王某刻苦学习，每个月享受国家 200 元的生活困难补贴
- C.村民李某为缅甸贩毒集团开车，月薪 3 万元人民币
- D.许某作为一名大学应届毕业生，积极响应政府号召，参加了中国人民解放军

58.行政领导，作为一种行为，它是指在一定的行政环境下，为实现一定的行政目标，行政领导者所进行的统御率领和引导的行为过程。

下列不属于行政领导的是：

- A.行政领导者提出一定的施政纲领和政策，通过动员、发动，使下级朝目标积极前进
- B.行政领导者提出一定规定和意见，通过思想政治工作和宣传教育，让下级接受
- C.领导家搬迁新房，请下级来做客
- D.建立一定的组织制度和机构体系，选拔和使用行政人员

59.媒介现象是指与媒介文化有关的文化现象，它既包括媒介本身的一些发展现象，也包括媒介文化辐射产生的社会影响。

根据上述定义，下列陈述中不属于媒介现象的是：

- A.一些电视台为了招揽观众创办了“跳水真人秀”节目
- B.周末版现象、都市报现象、电视频道专业化现象等
- C.一些电视节目由于过于煽情和暴力遭到了许多人的批评
- D.媒介中暴力文化、色情文化引发的青少年犯罪等

60.机械组织，指在稳定的情况下，环境对组织的要求有一定影响，组织工作有稳定的方向，对面临的问题有既定的解决方式，工作程序周而复始，比较固定的一类组织。

下列属于机械组织的一项是：

- A.王华和李鹏一起去旅游，遇上几个游览者，为了省钱，大家一起买团体票
- B.电视剧中的一家人
- C.电视剧组的工作室及成员
- D.红军长征中，年轻的与年老的一起相伴前行

61.认知干预，是指通过改变或影响个体已有的认知思维模式来影响个体的行为水平的各种主动措施。

下列属于认知干预的是：

- A.妈妈不同意儿子的婚事，认为他应该找一个踏实可靠的农村姑娘
- B.对于渴望进步的学生，老师应该进一步指导他们，以满足学生的求知欲望
- C.在手术前，医生以正确的医学知识告诉病人不要害怕，消除病人的焦虑
- D.比赛前学生很紧张，老师在旁边给学生加油、鼓气

62.超限效应是指刺激过多、过强或作用时间过久，而引起心理极不耐烦或逆反的心理现象。

根据上述定义，下列属于超限效应的是：

- A.小王昨天打了5个小时的篮球，今天全身酸痛

- B.小方第一次吃苦瓜时就决定以后再也不吃苦瓜了
- C.夏天宿舍太热，很多学生发明了各种各样的降温方法
- D.小张因违反校纪，多次受到老师和家长的批评，终于忍无可忍离家出走

63.底线伦理，是指维系人之所以为人的起码的伦理道德，是一种与人的本性和本质同一的基本伦理，是任何有人性的人都认可并遵循的普遍伦理。“底线伦理”主要有两方面的含义：一个是它的普遍性，或者说平等性，也就是说底线伦理的规范是要求所有人的，是平等的，是没有例外地约束所有社会成员的，并不因权力或金钱、地位的差别而有什么不同，它不允许有任何“逃票乘客”和双重标准；另一方面的含义也就是它的基本性、最低限度性。

根据以上定义，下列违背了底线伦理的是：

- A.君子爱财，取之有道
- B.即使无法帮助别人，也绝不能去伤害别人
- C.某市晚报为了吸引读者，炮制了一条耸人听闻的消息
- D.司机小李为了载一名危重病人去医院，连闯3个红灯

64.一事不再罚：是指对当事人的同一个违法行为，不得给予两次以上罚款的行政处罚。

下面做法不符合一事不再罚规定的是：

- A.张某回国携带应申报物品而没有向海关申报，海关认定张某的行为构成走私，对其做出没收物品、并罚款人民币2000元的处罚
- B.个体户杨某在贩卖生猪时被“生猪办”执法人员查出没有完税凭证，并且拒绝申报纳税。“生猪办”执法人员遂通知公安机关以妨碍公务为名将其留置盘查48小时。后国税局根据“生猪办”认定的事实，按照《税收征管法》的规定对杨某没有按照规定申报纳税处以罚款900元

C.某县有一饮食店，未在工商、税务部门办理登记就开业了，半年后被工商部门查获罚款。县地税局通过调查，对该饮食店下达了《税务行政处罚事项告知书》、《税务处理决定书》、《税务行政处罚决定书》，责令其补税、并缴纳加收滞纳金和罚款

D.某甲是河北人，在北京打工。因为多生了一个孩子违反了地方法规的规定，已经依据北京市某区计划生育部门的决定在北京缴纳了社会抚养费。某甲在回家探亲时，其户籍所在地的计划生育部门根据河北省有关规定亦对某甲的超生行为征收了社会抚养费

65.绿色消费是指从满足生态需要出发，以有益健康和保护环境为基本内涵，符合人的健康和环境保护标准的各种消费行为和消费方式的统称。

下列不属于绿色消费的是：

- A.骑自行车出游
- B.闲置物品交换使用
- C.砍伐荒山树木造纸
- D.使用低能耗的空调

66.大象：象牙

A.房屋：墙壁

C.鹿茸：梅花鹿

B.银耳：菌类

D.坦克：兵器

67.老鼠：耗子

A.野猫：狐狸

C.袋鼠：松鼠

B.乌贼：墨鱼

D.蟑螂：蜘蛛

68.公共汽车：地铁

A.电话：电视

C.军人：警察

B.公路：铁路

D.腐败：贪污

69.囫圇吞枣：不求甚解

A.布鼓雷门：班门弄斧

C.爱不释手：弃如敝屣

B.曲高和寡：雅俗共赏

D.投鼠忌器：声名狼藉

70.方程：等式

A.蛋白质：氨基酸

C.汽油：燃料

B.故宫：紫禁城

D.体育：游泳

71.轮船：甲板

A.电脑：显示器

C.楼房：电梯

B.汽车：汽油

D.桌子：木头

72.强盗：抢劫

A.电脑：聊天

C.司机：送货

B.学生：实践

D.考生：作答

73.验光仪：近视

A.天平：质量

C.电笔：通电

B.游标：卡尺

D.体温计：体温

74.菜肴：萝卜

A.毛笔：宣纸

B.文具：文具盒

C.书籍：纸张

D.飞机：大炮

75.言不及义：言之有理

A.疾步如飞：健步如飞

B.不遗余力：敷衍了事

C.泰然处之：搁置自如

D.满腹经纶：博大精深

一、根据以下资料，回答 1~5 题。

2011 年前十一个月，某省高新技术产业完成总产值 3763.00 亿元，实现增加值 896.31 亿元。增加值同比增长 30.74%，比规模以上工业增加值高 11.64 个百分点，占规模以上工业增加值的比重达到 25.32%。高新技术产业各领域的增加值如下图所示：

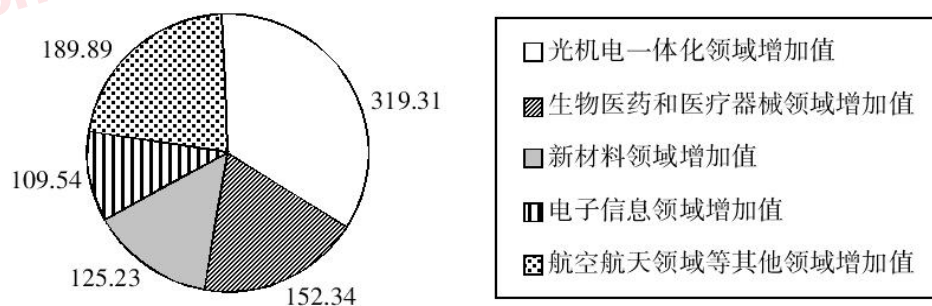


图 高新技术产业各领域增加值饼形图 (单位：亿元)

76.2011 年前十一个月，该省规模以上工业增加值同比增长约为多少？

A.11.64%

B.19.10%

C.30.74%

D.42.38%

77.2010 年前十一个月，该省规模以上工业增加值约为多少亿元？

A.2972

B.3540

C.3865

D.4373

78.2011 年前十一个月，光机电一体化领域实现增加值与生物医药和医疗器械领域、新材料领域、电子信息领域增加值总和的比约为：

A.3 : 5

B.3 : 4

C.5 : 6

D.9 : 10

79.若该省高新技术产业增加值保持同样的增长速度,则 2012 年前十一个月高新技术产业增加值比 2010 年同期约增加多少亿元?

- A.210.7 B.486.3 C.275.5 D.685.6

80.关于该省高新技术产业各领域增加值情况,下列说法错误的是:

- A.生物医药和医疗器械领域增加值超过全省高新技术产业增加值的 $\frac{1}{6}$
- B.光机电一体化领域与新材料领域增加值之和大约是全省高新技术产业增加值的 $\frac{1}{5}$
- C.航空航天领域实现的增加值可能不到全省高新技术产业增加值的 $\frac{1}{3}$
- D.生物医药和医疗器械领域与电子信息领域增加值之和不到全省高新技术产业增加值的 $\frac{2}{3}$

二、根据以下资料,回答 6~10 题。

2011 年发现违法用地行为 7.0 万件,涉及土地 5.0 万公顷(耕地 1.8 万公顷),同比分别上升 5.8%、11.0%(耕地下降 2.4%)。立案查处违法用地案件 4.2 万件,涉及土地 4.4 万公顷(耕地 1.5 万公顷),同比分别上升 2.5%、11.4%(耕地下降 5.7%)。依法拆除违法构筑物 1289.8 万平方米,收回土地 3791.2 公顷(耕地 1064.7 公顷),罚没款 26.5 亿元。

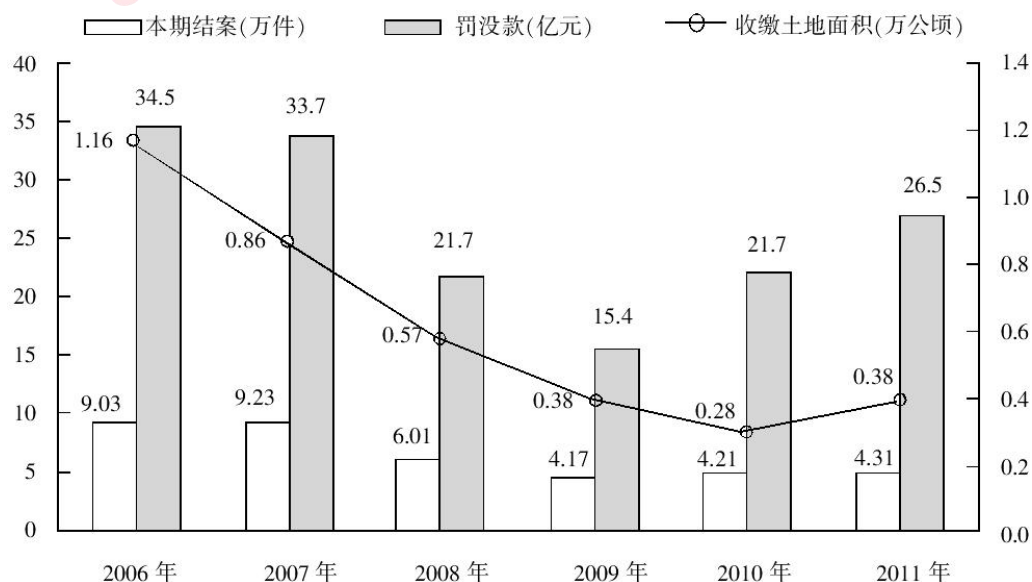


图 2006~2011 年我国违法用地案件查处情况(一)

表 2006~2011 年我国违法用地案件查处情况(二)

单位：件、公顷

年度	本期发现违法			本期立案			本期结案		
	件数	涉及土地面积	其中耕地面积	件数	涉及土地面积	其中耕地面积	件数	涉及土地面积	其中耕地面积
2006 年	131077	92237	43408	96133	84082	38680	90340	69559	34331
2007 年	123343	99069	43739	95937	89847	39382	92347	80873	36708
2008 年	100266	57660	21518	60399	46672	17579	60077	50430	19965
2009 年	72940	37973	17039	41623	31086	13868	41662	31851	14182
2010 年	66373	45124	18030	40795	39279	15833	42140	39330	16230
2011 年	70212	50074	17596	41806	43756	14935	43149	46064	15353

81.与 2006 年相比, 2011 年全国收缴土地面积约减少了:

- A.52% B.110% C.67% D.205%

82.2011 年结案的案件中, 平均每个案件的罚没款约为多少万元?

- A.0.56 B.1.13 C.3.78 D.6.14

83.2011 年, 发现违法但未立案的违法用地行为占发现违法用地行为总数的比重约为多少?

- A.59.5% B.40.5% C.38.5% D.61.5%

84.下列年份中, 本期结案中涉及的耕地面积占结案涉及土地面积比重最高的是:

- A.2006 年 B.2008 年 C.2010 年 D.2011 年

85.能够从上述资料中推出的是:

- A.2006-2011 年, 违法用地案件查处中收缴土地面积逐年减少
 B.2006-2011 年, 违法用地案件查处中罚没款的变化趋势与收缴土地面积变化趋势完全一致
 C.2011 年发现违法用地行为涉及土地面积中非耕地面积同比上升约 20%
 D.2006 年立案涉及的土地面积略小于 2010 年与 2011 年立案涉及土地面积之和

三、根据以下资料, 回答 11~15 题。

截至 2011 年 4 月 21 日 22 时, 沪深两市已有 534 家上市公司公布第一季度财报。这 534 家公司实现营业总收入 4572.78 亿元, 同比增长 30.74%; 实现净利润 336.7 亿元, 同比增长 30.52%。不过, 一季度销售收入和净利润环比则有所下降, 其中营业总收入环比下降 12%, 净利润环比下降 25%, 这 534 家公司 2011 年一季度存货 6167.68 亿元, 较上年年末增长 10%。

已公布一季报的创业板公司有 71 家,实现营业收入 80.08 亿元,同比增长 73.60%;实现净利润 13.16 亿元,同比增长 80%。已公布一季报的中小企业板公司有 202 家,实现营业收入 789.97 亿元,同比增长 36%;实现净利润 73.25 亿元,同比增长 25%。

25 家已公布一季报的房地产公司一季度实现营业收入 193.68 亿元,同比增长 9%;实现净利润 29.97 亿元,同比增长 31%;存货 2892.18 亿元,同比增长 10%。

已公布一季报的 6 家钢铁板块公司一季度存货为 322 亿元,实现营业收入 493.39 亿元,同比略有降低,环比下降 20%;实现净利润 12.65 亿元,同比增长 62%,环比表现更好,这 6 家公司 2010 年四季度净亏损 3.77 亿元。

建筑机械类公司持续了之前的景气度,有 4 家公司公布一季报,实现营业总收入 15.90 亿元,同比增长 39%;实现净利润 1.18 亿元,同比增长 47.5%。

86.已公布一季报的 534 家公司,平均每家在 2010 年第四季度实现营业收入约多少亿元?

- A.0.63 B.7.54 C.8.56 D.9.73

87.这 534 家公司中,平均每家中小企业板公司在 2011 年第一季度的净利润约是创业板公司的:

- A.2 倍 B.3 倍 C.4 倍 D.5 倍

88.已公布 2011 年一季报的房地产公司中,平均每家的存货比上年同期增长了约多少亿元?

- A.5 B.11 C.51 D.105

89.已经公布一季报的钢铁板块公司 2010 年第四季度的净利率(净利润比营业收入)约为:

- A.2.57% B.1.80% C.-0.96% D.-0.61%

90.关于这 534 家公司在 2011 年第一季度营业状况的描述与资料相符的是:

- A.所有公司净利润之和比 2010 年第四季度有所上升
B.超过 $\frac{1}{3}$ 的净利润来自中小企业板公司
C.平均每家钢铁板块公司的存货高于 534 家公司的平均水平
D.平均每家建筑机械类公司的营业收入高于 534 家公司的平均水平

四、根据以下资料,回答 16~20 题。

2011 年全国农民工总量达到 25278 万人，比上年增加 1055 万人，增长 4.4%。农民工从业仍以制造业、建筑业和服务业为主，从事建筑业的比重明显提高。从农民工的就业地区来看，2011 年在东部地区务工的农民工 16537 万人，比上年增加 324 万人；在中部地区务工的农民工 4438 万人，比上年增加 334 万人，增长 8.1%；在西部地区务工的农民工 4215 万人，比上年增加 370 万人，增长 9.6%。

表1 2008~2011年农民工从事的主要行业分布（单位：%）

	2008 年	2009 年	2010 年	2011 年
制造业	37.2	36.1	36.7	36.0
建筑业	13.8	15.2	16.1	17.7
交通运输、仓储和邮政业	6.4	6.8	6.9	6.6
批发零售业	9.0	10.0	10.0	10.1
住宿餐饮业	5.5	6.0	6.0	5.3
居民服务和其他服务业	12.2	12.7	12.7	12.2

表2 2011年农民工在不同地区从事的主要行业分布（单位：%）

	全国	东部地区	中部地区	西部地区
制造业	36.0	44.8	23.0	15.4
建筑业	17.7	13.4	24.7	27.4
交通运输、仓储和邮政业	6.6	5.5	8.1	9.3
批发零售业	10.1	8.7	13.1	12.5
住宿餐饮业	5.3	4.5	5.9	7.3
居民服务和其他服务业	12.2	12.3	11.4	12.2

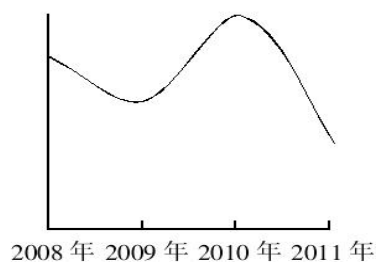
91.与上一年相比，2011 年在东部地区务工的农民工人数增长率约为：

- A.2.0% B.4.4% C.5.2% D.8.1%

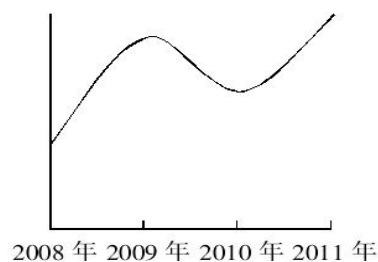
92.2008-2011 年从事建筑业、批发零售业、居民服务和其他服务业的农民工人数总和超过从事制造业的农民工人数的年份有：

- A.1 个 B.2 个 C.3 个 D.4 个

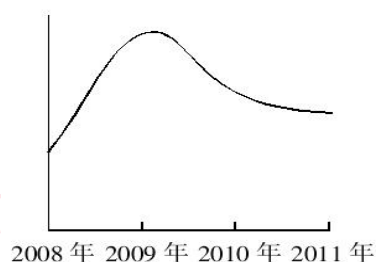
93.2008-2011 年农民工从事交通运输、仓储和邮政业的比重变化趋势符合：



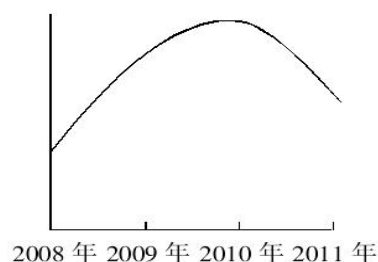
A



B



C



D

94.2011 年在中部地区务工的农民工占农民工总人数的比重，较上一年约增加：

A.0.6%

B.3.7%

C.6.2%

D.12.5%

95.能够从上述资料中推出的是：

A.2008-2011 年我国从事住宿餐饮业的农民工比重持续上升

B.2010 年在东部地区务工的农民工人数超过西部和中部总和的两倍

C.2008 年农民工从事交通运输、仓储和邮政业的人数多于批发零售业

D.2011 年农民工在中部地区从事建筑业、批发零售业、居民服务和其他服务业的比重均超过全国平均水平

五、根据下列材料，回答 21~25 题。

2011~2012 学年度某市共有普通高等学校 89 所，其中中央部委所属高校 36 所（包括教育部所属高校 25 所，其他部委所属高校 11 所），市属高校 53 所（包括公办高校 38 所，民办高校 15 所）。

表 2011~2012 学年度某市普通高等学校基本办学条件情况

学校(机构)名称	占地面积 (平方米)	一般图书 (万册)	固定资产总值(万元)		学校产权建筑 面积(平方米)
			总计	其中:教 学、科研、 仪器设备	
总计	41191091	9522	9255496	2743931	30861538
一、中央部委所属	25354119	6012	6239056	1759337	21178115
1.教育部所属	18238410	4614	4797211	1340641	15147474
2.其他部委所属	7115709	1398	1441845	418696	6030641
二、市属	15836972	3510	3016440	984594	9683423
(一)公办	12620706	2802	2551252	927732	8237820
1.地方教育部门所属	7335128	2223	1908410	805895	6011475
2.地方非教育部门所属	5285578	579	?	121837	2226345
(二)民办	3216266	708	465188	56862	1445603

96.2011~2012 学年度该市每所普通高等学校的平均产权建筑面积约为多少万平方米?
()

- A.30 B.35
C.40 D.45

97.表格中问号处缺失的数值应当为 ()。

- A.642842 B.642942
C.652842 D.652942

98.以下各类普通高校中,2011~2012 学年度学校产权建筑面积与学校占地面积的比值最低的是()。

- A.教育部所属高校
- B.其他部委所属高校
- C.地方教育部门所属高校
- D.地方非教育部门所属高校

99.该市民办高校的校均图书保有量需要在下一学年提高约多少倍,才能达到 2011~2012 学年度全市普通高等学校的平均水平?()

- A.1.3
- B.2.1
- C.2.9
- D.3.7

100.以下关于 2011~2012 学年度该市普通高等学校基本办学条件情况的描述,与资料相符的是()。

- A.市属公办高校的数量占全市普通高等学校总数的比重超过 50%
- B.其他部委所属高校的总占地面积高于教育部所属高校
- C.地方教育部门所属高校的教学、科研、仪器设备价值超过全市普通高校总价值的 $\frac{1}{3}$
- D.市属公办高校的校均固定资产总值超过 6 亿元